

KLASA IVA

Lekcja nr 102

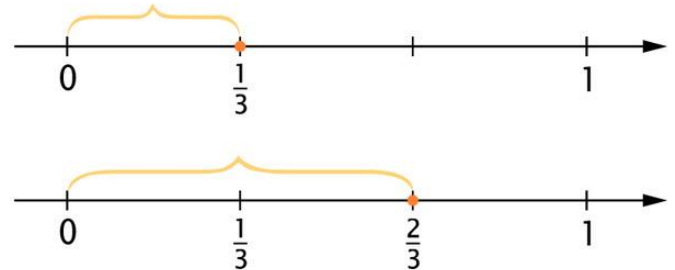
Data: 20.04.2020 r.

Temat: Ułamki i liczby mieszane na osi liczbowej.

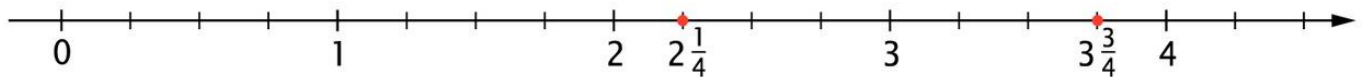
Opracowanie: mgr inż. Krzysztof Janikowski

Przeczytaj i zapoznaj się z poniższą informacją. Przepisz temat do zeszytu oraz poniższe informacje (lub wklej), a następnie rozwiąż zadanie:

Aby zaznaczyć ułamki $\frac{1}{3}$ i $\frac{2}{3}$, dzielimy odcinek jednostkowy na 3 równe części.



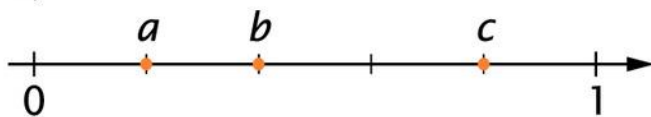
Na osi liczbowej można też oczywiście zaznaczać liczby mieszane. Na poniższej osi zaznaczono czerwonymi kropkami liczby $2\frac{1}{4}$ oraz $3\frac{3}{4}$.



ZADANIE 1.

1. Jakie liczby zaznaczono na osiach liczbowych?

a)



b)

