

ZAJĘCIA WYRÓWNAWCZE: KLASA IV

Lekcja

Data: 14/15.04.2020 r.

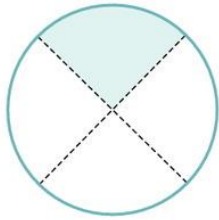
Temat: Ułamek jako część całości.

Opracowanie: mgr inż. Krzysztof Janikowski

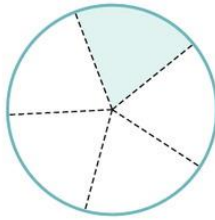
Rozwiąż zadanie:

ZADANIE 1.

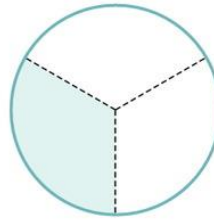
a) Zapisz, jakie części kół pokolorowano.



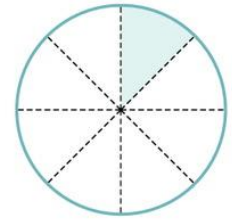
.....



.....

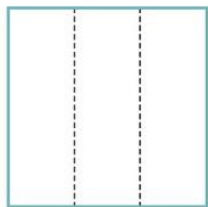


.....



.....

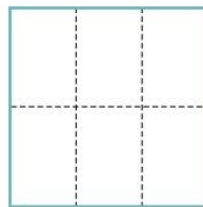
b) Pokoloruj wskazane części kwadratów.



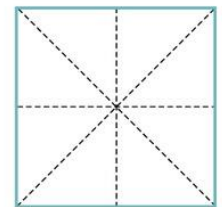
$\frac{1}{3}$



$\frac{1}{7}$



$\frac{1}{6}$



$\frac{1}{8}$