

KLASA VA

Lekcja nr 121


Data: 19.05.2020 r.

Temat: Procent a ułamek - zadania.


Opracowanie: mgr inż. Krzysztof Janikowski

Przepisz (lub wklej) temat do zeszytu oraz rozwiąż poniższe zadania:


1. a) Zapisz pod każdym rysunkiem, jaki procent kwadratu zamalowano.




.....



.....

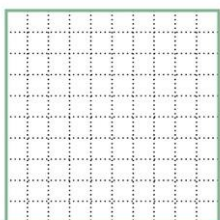


.....




.....


b) Pokoloruj odpowiednie części kwadratów.




10%



35%



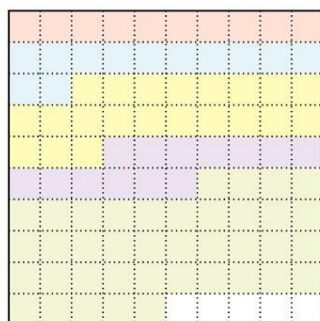
70%









80%

2. Na poniższym diagramie przedstawiono, ile procent mieszkańców pewnej miejscowości stanowią osoby w poszczególnych grupach wiekowych.

a) Uzupełnij opis tych grup zamieszczony obok diagramu.



-  dzieci do lat 6
-  dzieci 7-13 lat
-  młodzież 14-18 lat
-  młodzież 19-25 lat
-  dorośli 26-70 lat
-  dorośli powyżej 70 lat

b) Odpowiedz na pytania.

Która grupa wiekowa jest najliczniejsza?

Która grupa wiekowa jest najmniej liczna?

.....
młodzież w wieku 14-25 lat?

W tej miejscowości jest 13 000 mieszkańców.

Ilu mieszkańców to dzieci do lat 6?