

KLASA VIII B

Lekcja nr 88

Data: 30.03.2020 r.

Temat: Odcinki w ostrosłupie – c.d.

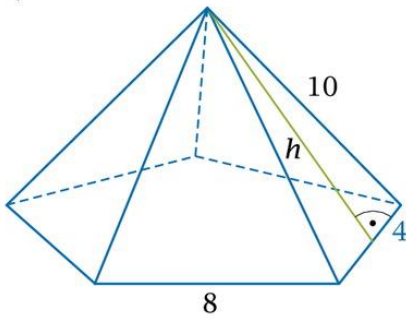
Opracowanie: mgr inż. Krzysztof Janikowski

Przepisz i przerysuj do zeszytu, a następnie rozwiąż zadanie:

ZADANIE 1.

1. Na rysunku przedstawiono ostrosłup prawidłowy. Oblicz wysokość ściany bocznej tego ostrosłupa według wzoru.

a)

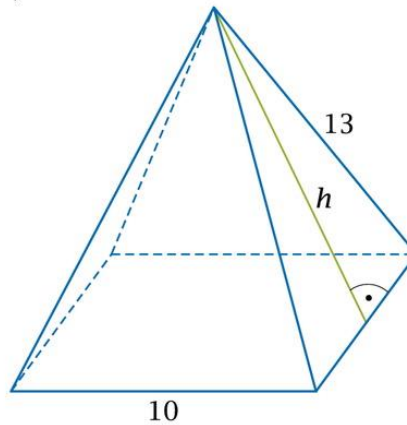


$$h^2 + 4^2 = 10^2$$

$$h^2 =$$

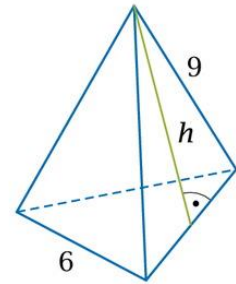
$$h =$$

b)



.....
.....
.....

c)



.....
.....
.....