

Geografia:

Kl. 8a – 27.03.2020r., kl.8b – 26.03.2020r.

Temat: Urbanizacja w Ameryce.

No to nadal podróżujemy po kontynencie amerykańskim. Tym razem po największych miastach obu Ameryk.

Na początek, temat ten jest ciekawie opracowany na stronie <http://geografia24.pl/procesy-urbanizacji-w-amerykach/> oraz <https://epodreczniki.pl/a/ameryka-polnocna-i-ameryka-poludniowa---zroznicowanie-ludnosci/DdifsCgpe>

Są tam zdjęcia, które pomogą zrozumieć pewne zjawiska.

Czym jest urbanizacja?

Urbanizacja to proces rozwoju miast, który obejmuje wzrost liczby ludności miejskiej, powstawanie nowych miast oraz powiększanie obszaru istniejących ośrodków.

Wynika z tego, iż urbanizacja wiąże się rozmieszczeniem ludności na danym terenie.

W przypadku obu Ameryk rozmieszczenie ludności jest bardzo nierównomierne, a wiąże się to z:

- warunkami środowiska przyrodniczego,
- poziomem rozwoju gospodarczego poszczególnych krajów i regionów,
- historią zasiedlania kontynentu (ostatni temat).

Najgęściej zaludnione tereny to te, które znajdują się bliżej oceanów:

- zachodnia i wschodnia część A. Północnej (wybrzeże Atlantyku, rejon Wielkich Jezior)
- północno- zachodnia i wschodnia A. Południowa (wyjątkiem jest nadmorska część Amazonii).

Najslabiej zaludnione to tereny z niekorzystnymi warunkami przyrodniczymi:

- zimno: Grenlandia, Archipelag Arktyczny, północna Kanada, Patagonia (południowa część A. Południowej),
- obszary wilgotne i gorące: Nizina Amazonki,
- obszary wysokogórskie np. Góry Skaliste,

A w jakich miastach jest najwięcej ludzi?

Ponad 90% ludzi na kontynentach amerykańskich mieszka w miastach (to bardzo dużo).

Szybki napływ ludności doprowadził do powstania bardzo dużych aglomeracji.

Natomiast *aglomeracja to zespół miejski, który tworzy jedno duże, wyraźnie dominujące miasto wraz z otaczającymi je mniejszymi miejscowościami.*

Aglomeracje w Ameryce:

- A. Północna: Meksyk (stolica kraju Meksyk), Nowy Jork i Los Angeles w USA,
- A. Południowa: Sao Paulo i Rio de Janerio w Brazylii oraz Buenos Aires w Argentynie.

AMERYKA

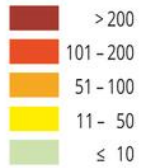
rozmieszczenie ludności

500 0 500 1000 km

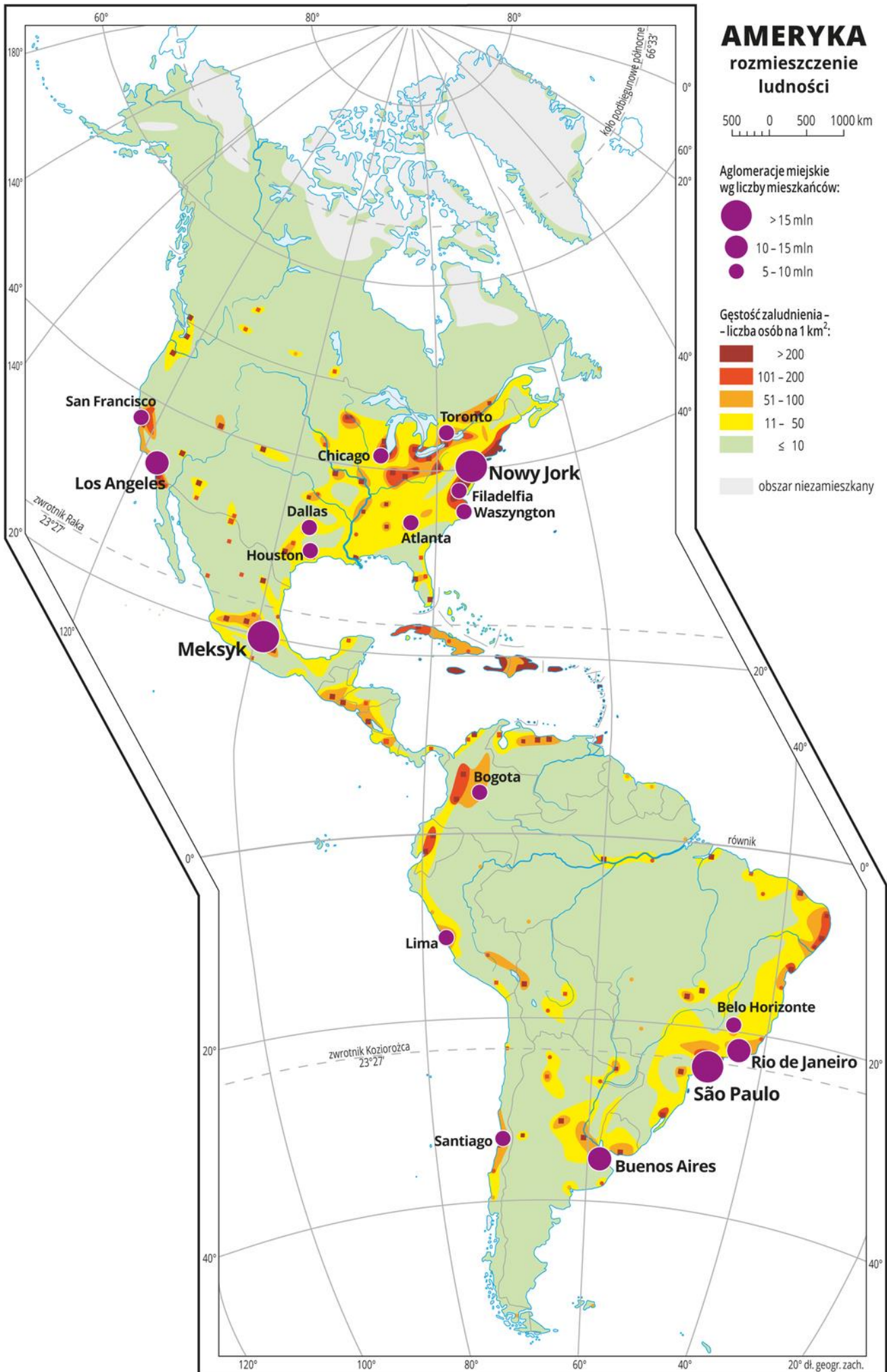
Aglomeracje miejskie
wg liczby mieszkańców:



Gęstość zaludnienia -
liczba osób na 1 km²:



obszar niezamieszkały



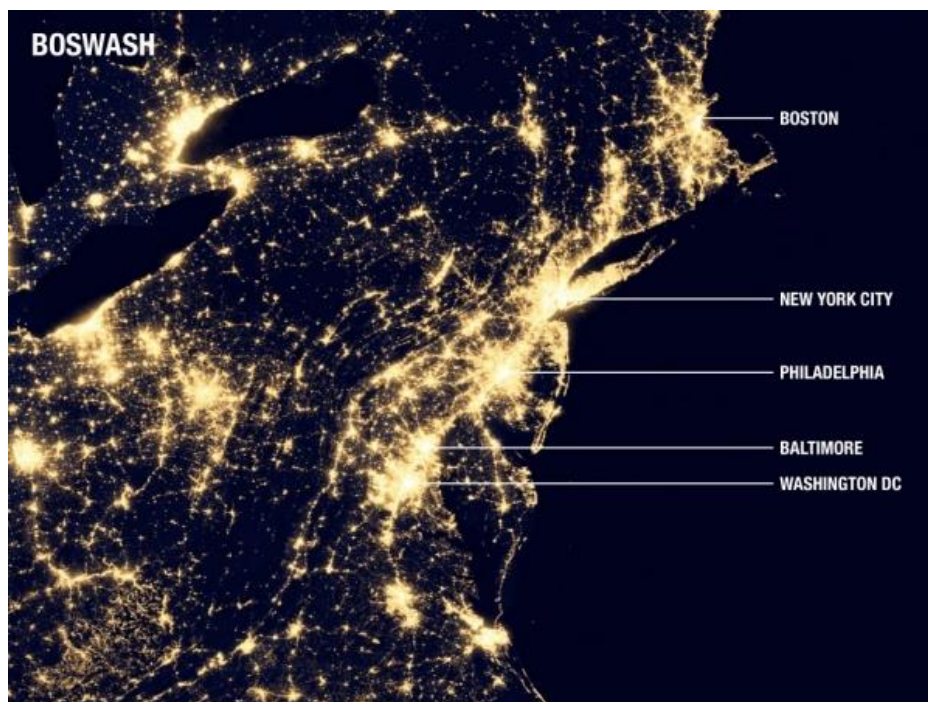
Kiedy aglomeracje ciągle się powiększają dochodzi do ich połączenia i powstaje tzw. **megalopolis**.

Cechy megalopolis:

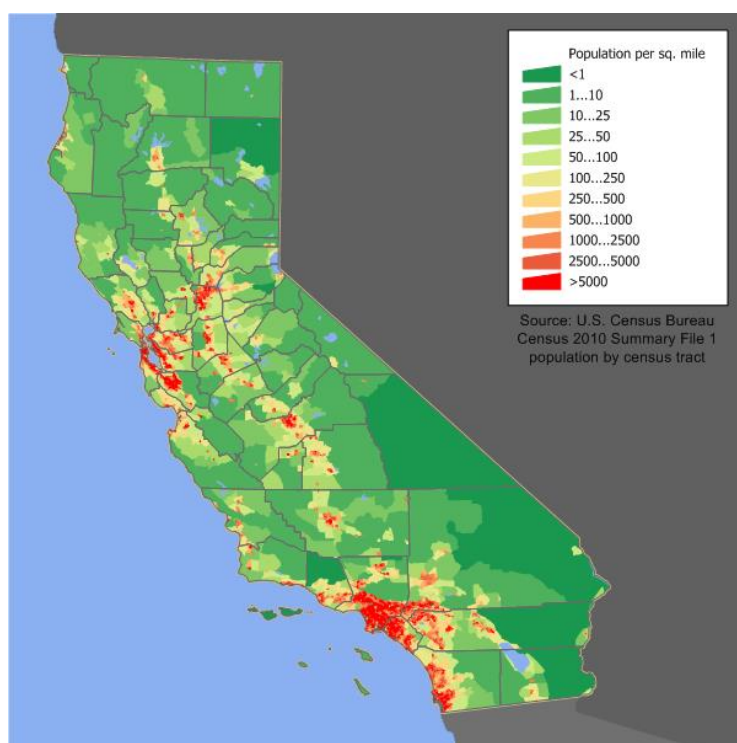
- duża gęstość zaludnienia,
- wysoka zabudowa w centrach połączonych miast i niższa w dzielnicach mieszkalnych,
- bardzo gęsta sieć komunikacyjna złożona z wielu autostrad i linii metra,

Największe megalpolis:

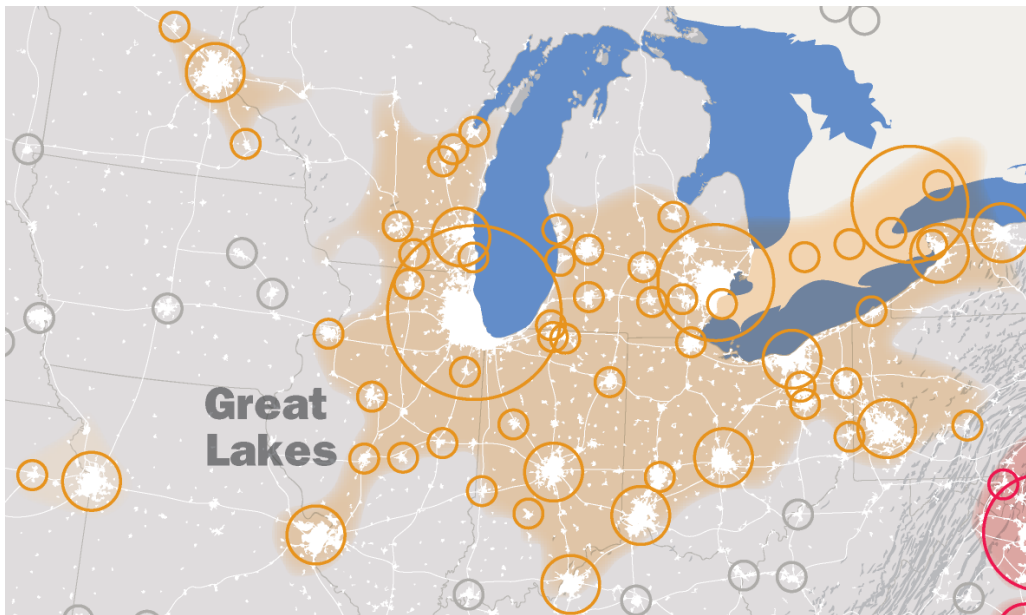
→ BosWash – najstarsze i najbardziej zaludnione (50 milionów osób na osi o długości około 1000 km) jest położone na wschodnim wybrzeżu USA BosWash (Boston-Waszyngton).



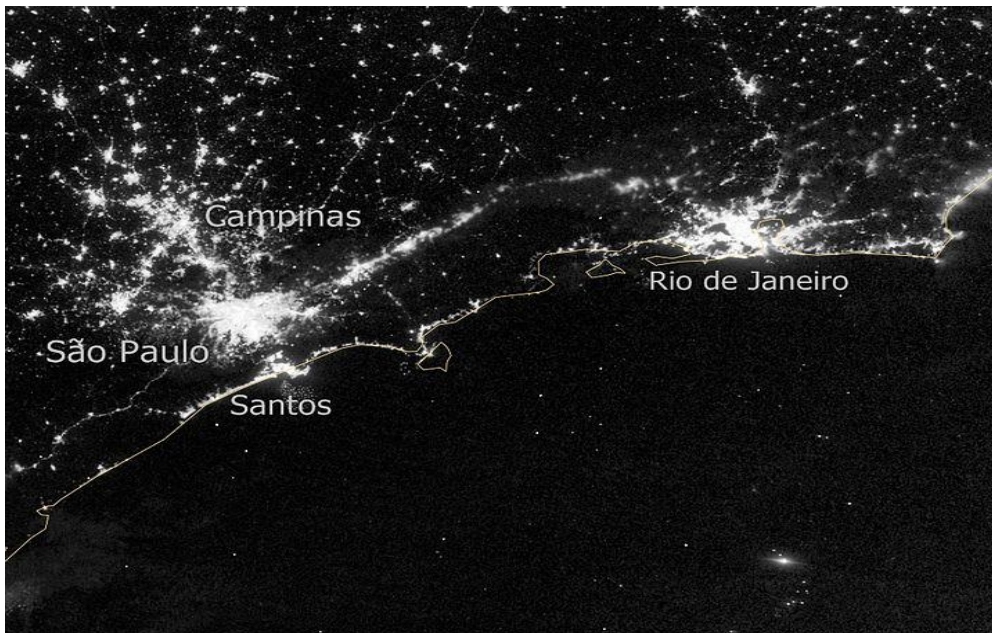
→ na zachodnim wybrzeżu – SanSan (San Diego – San Francisco).



→ ChiPitsu (Chicago-Pittsburgh)- obejmujące obszary nad Wielkimi Jeziorami w USA i Kanadzie



→ Megalopolis Ameryki Południowej: brazylijskie Sao Paulo – Rio de Janeiro



Szybki rozwój miast ma również negatywny skutek. Są to **slamsy**. Biedna ludność ucieka ze wsi do miast w poszukiwaniu lepszego życia, jednak tempo rozwoju miasta jest wolniejsze niż napływ do niego nowych mieszkańców. W ten sposób warunki życia w mieście dramatycznie się pogarszają, a na przedmieściach powstają dzielnice nędzy nazywane w Brazylii i Meksyku **fawelami**.

Fawele wokół Sao Paulo w Brazylii



ZADANIE:

1. Do zapamiętania (do zeszytu): co to urbanizacja; jak wygląda rozmieszczenie ludności na kontynencie amerykańskim; co to aglomeracja i megalopolis: jak powstają, ich przykłady.

2. ZADANIE NA OCENĘ.

Proszę uzupełnić dołączoną kartę pracy i przesłać ją na adres wisniewska.monika@sp3.edu.pl do 3.04.2020r. do godz. 15:00. Mogą to być zdjęcia uzupełnionej karty lub same odpowiedzi. (same odpowiedzi można przesłać również poprzez e-dziennik). Przyda się mapa w podręczniku lub atlas.

Karta pracy: URBANIZACJA W AMERYCE

Imię i Nazwisko, klasa:

1. Na mapie literami A-J oznaczono wybrane wielkie miasta Ameryki.
 - a) Rozpoznaj opisane w tabeli miasta i wpisz ich nazwy we właściwych miejscach.
 - b) Zapisz w tabeli literę, jaką oznaczono opisane miasto.
 - c) Napisz trzy problemy, z którymi zmagają się mieszkańcy faweli.

Lp.	Opis	Nazwa miasta	Oznaczenie na mapie
1.	To największe miasto położone nad jeziorem Michigan.		
2.	To największe południowoamerykańskie miasto położone na półkuli północnej.		
3.	Jest stolicą Stanów Zjednoczonych.		
4.	Jest największym miastem w Stanach Zjednoczonych.		
5.	To największe miasto na półwyspie Floryda.		
6.	To największe miasto Ameryki Południowej. Jest położone na zwrotniku Koziorożca.		
7.	To największe z amerykańskich miast leżących na wybrzeżu Oceanu Spokojnego.		
8.	Jest to największa aglomeracja na półkuli zachodniej.		
9.	To stolica Peru.		
10.	To największa argentyńska aglomeracja położona u ujścia Parany do zatoki La Plata.		

