

KLASA IVA

Lekcja nr 117

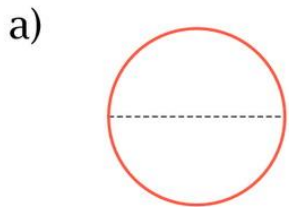
Data: 18.05.2020 r.

Temat: Powtórzenie wiadomości przed sprawdzianem.

Opracowanie: mgr inż. Krzysztof Janikowski

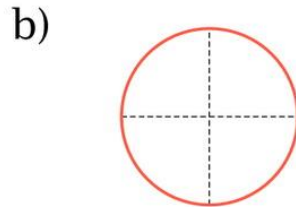
Przepisz (lub wklej) temat do zeszytu oraz rozwiąż poniższe zadania:

1. Zapisz, z ilu jednakowych części składa się koło.



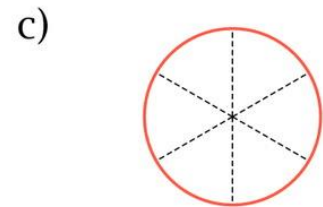
..... części

Pokoloruj $\frac{1}{2}$ koła.



..... części

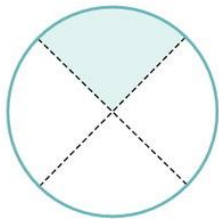
Pokoloruj $\frac{1}{4}$ koła.



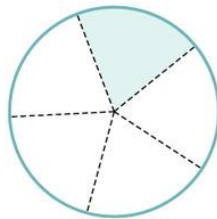
..... części

Pokoloruj $\frac{1}{6}$ koła.

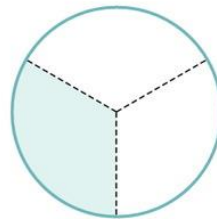
2. a) Zapisz, jakie części kół pokolorowano.



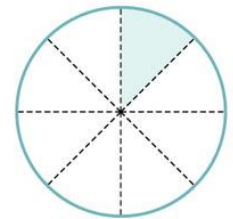
.....



.....

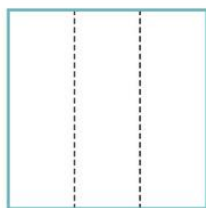


.....



.....

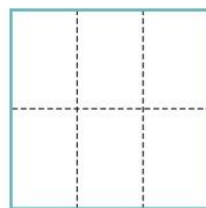
b) Pokoloruj wskazane części kwadratów.



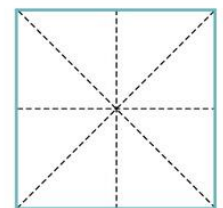
$\frac{1}{3}$



$\frac{1}{7}$



$\frac{1}{6}$



$\frac{1}{8}$

Pozostały czas przeznaczony na tę lekcję spędź nad powtarzaniem materiału z działu „Ułamki zwykłe” (podręcznik strona 151 – 180).